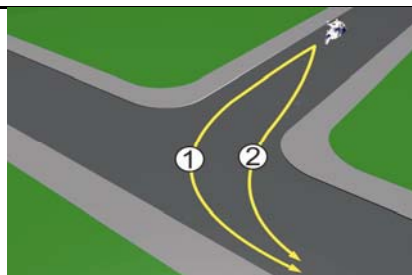


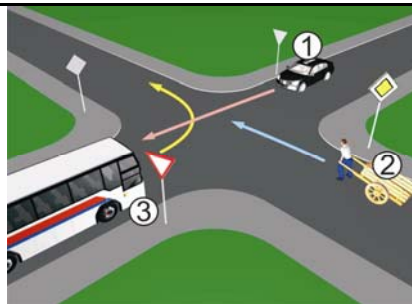
1 U saobraćajnoj situaciji kao na slici kojom putanjom vozač motocikla mora izvršiti radnju skretanja ulijevo?

- 1 putanjom broj 2;
- 2 putanjom broj 1.



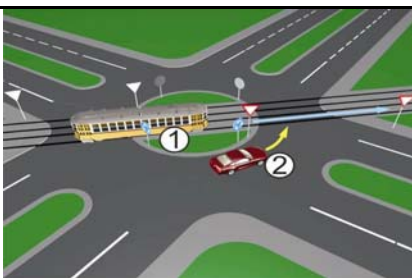
2 Koji je redosljed prolaska vozila na raskrsnici u situaciji kao na slici?

- 1 2 - 3 - 1;
- 2 2 - 1 - 3;
- 3 1 - 3 - 2.



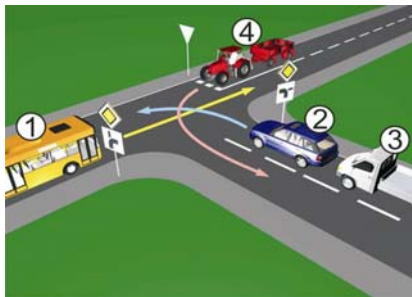
3 Koji je redosljed prolaska vozila na raskrsnici u situaciji kao na slici?

- 1 1 - 2.
- 2 2 - 1.



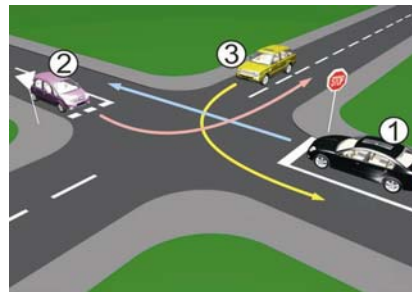
4 Koji je redosljed prolaska vozila na raskrsnici u situaciji kao na slici?

- 1 2 - 3 - 4 - 1;
- 2 2 - 3 - 1 - 4;
- 3 1 - 2 - 3 - 4.



5 Kako u saobraćajnoj situaciji kao na slici mora postupiti vozač vozila broj 1:

- 1 propustiti vozilo broj 3, zatim propustiti vozilo broj 2 i zadnji proći kroz raskrsnicu.
- 2 propustiti vozilo broj 3, a zatim proći prije vozila broj 2;



6 Kako u saobraćajnoj situaciji kao na slici mora postupiti vozač vozila broj 1?

- 1 proći kroz raskrsnicu prije vozila broj 2, a propustiti vozilo broj 3;
- 2 propustiti vozilo broj 2, a zatim proći kroz raskrsnicu prije vozila broj 3.



7 Koji je redosljed prolaska vozila na raskrsnici u situaciji kao na slici?

- 1 3 - 1 - 2 - 4;
- 2 4 - 2 - 1 - 3
- 3 3 - 4 - 2 - 1.



8 Koji je redosljed prolaska vozila na raskrsnici u situaciji kao na slici?

- 1 2 - 3 - 1;
- 2 2 - 1 - 3;
- 3 3 - 1 - 2.



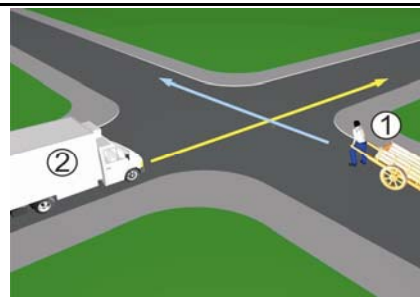
9 Da li je u saobraćajnoj situaciji kao na slici dozvoljeno izvršiti radnju polukružnog okretanja vozilom?

- 1 da;
- 2 ne.



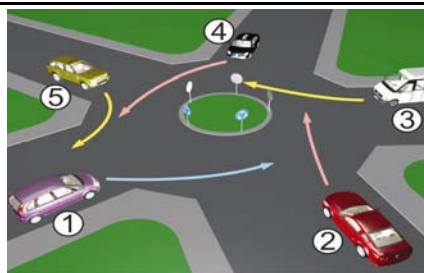
10 U saobraćajnoj situaciji kao na slici, koji učesnik u saobraćaju mora sačekati i propustiti drugog učesnika?

- 1 broj 2;
- 2 broj 1.



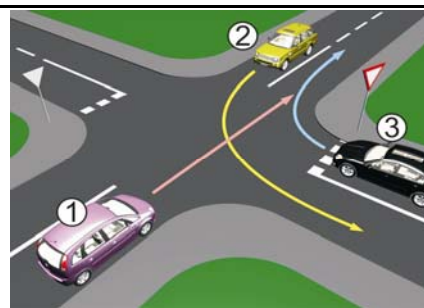
11 Koji je redoslijed prolaska vozila na raskrsnici u situaciji kao na slici?

- 1 5 - 4 - 3 - 2 - 1;
- 2 1 - 2 - 3 - 4 - 5.



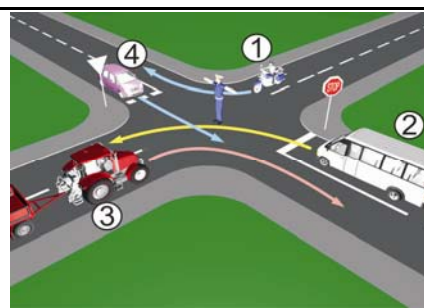
12 Koji je redoslijed prolaska vozila na raskrsnici u situaciji kao na slici?

- 1 2 - 3 - 1;
- 2 1 - 2 - 3;
- 3 3 - 1 - 2.



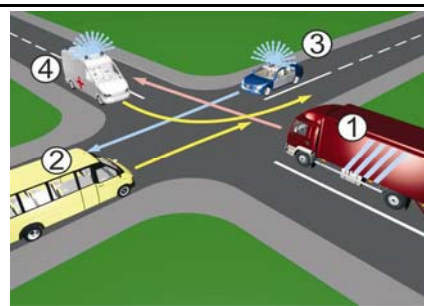
13 Kojim vozilima u saobraćajnoj situaciji kao na slici nije dozvoljen prolaz na raskrsnici?

- 1 vozilima broj 1 i broj 3;
- 2 vozilima broj 4 i broj 2.



14 Koji je redoslijed prolaska vozila na raskrsnici u situaciji kao na slici?

- 1 4 - 3 - 2 - 1;
- 2 3 - 4 - 1 - 2;
- 3 4 - 3 - 1 - 2.



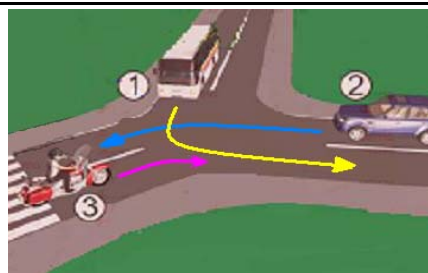
15 Koji je redoslijed prolaska vozila na raskrsnici u situaciji kao na slici?

- 1 1 - 2 - 3;
- 2 2 - 3 - 1;
- 3 3 - 1 - 2.



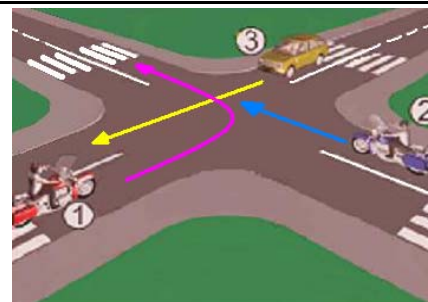
16 Koji je redoslijed prolaska vozila na raskrsnici u situaciji kao na slici?

- 1 2 - 3 - 1;
- 2 3 - 1 - 2;
- 3 1 - 3 - 2.



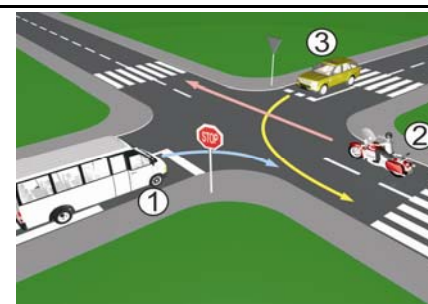
17 Koji je redoslijed prolaska vozila na raskrsnici u situaciji kao na slici?

- 1 1 - 2 - 3;
- 2 3 - 2 - 1;
- 3 2 - 1 - 3.



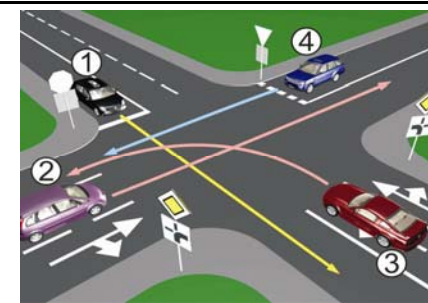
18 Koji je redoslijed prolaska vozila na raskrsnici u situaciji kao na slici?

- 1 1 - 3 - 2;
- 2 2 - 3 - 1;
- 3 2 - 1 - 3.



19 Koji je redoslijed prolaska vozila na raskrsnici u situaciji kao na slici?

- 1 1 - 3 - 2 - 4;
- 2 3 - 2 - 1 - 4;
- 3 3 - 1 - 2 - 4;
- 4 1 - 4 - 2 - 3.



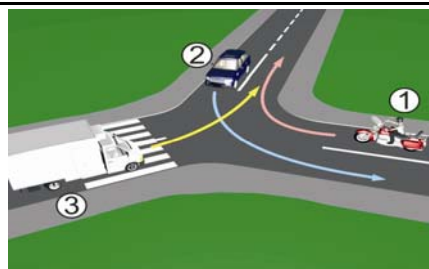
20 Kako u saobraćajnoj situaciji kao na slici mora postupiti vozač vozila broj 2?

- 1 zaustaviti se i propustiti vozilo broj 1;
- 2 proći prije vozila broj 1.



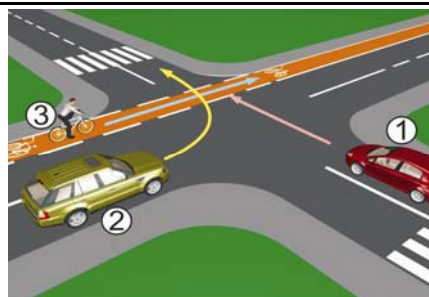
21 Koji je redoslijed prolaska vozila na raskrsnici u situaciji kao na slici?

- 1 2 - 1 - 3;
- 2 3 - 1 - 2;
- 3 1 - 3 - 2.



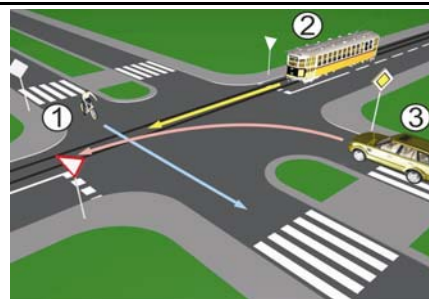
22 Koji je redoslijed prolaska vozila na raskrsnici u situaciji kao na slici?

- 1 1 - 2 - 3;
- 2 1 - 3 - 2;
- 3 3 - 1 - 2.



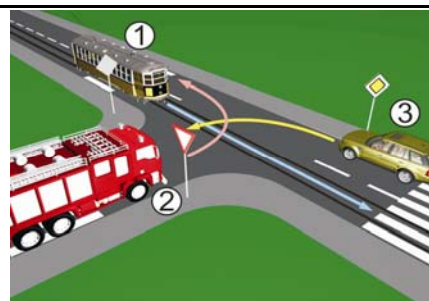
23 Koji je redoslijed prolaska vozila na raskrsnici u situaciji kao na slici?

- 1 2 - 1 - 3;
- 2 1 - 3 - 2;
- 3 3 - 2 - 1.



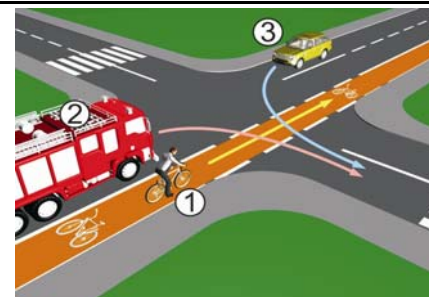
24 Koji je redoslijed prolaska vozila na raskrsnici u situaciji kao na slici?

- 1 3 - 2 - 1;
- 2 1 - 2 - 3;
- 3 1 - 3 - 2.



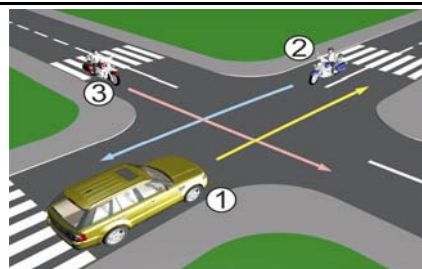
25 Koji je redoslijed prolaska vozila na raskrsnici u situaciji kao na slici?

- 1 1 - 2 - 3;
- 2 2 - 1 - 3;
- 3 3 - 1 - 2.



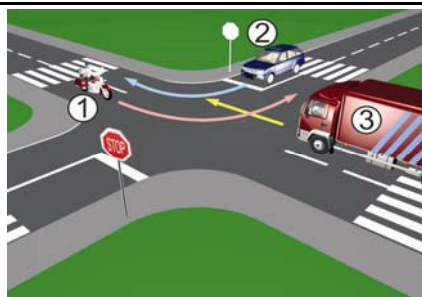
26 Koji je redoslijed prolaska vozila na raskrsnici u situaciji kao na slici?

- 1 2 - 1 - 3;
- 2 3 - 2 - 1;
- 3 1 - 3 - 2.



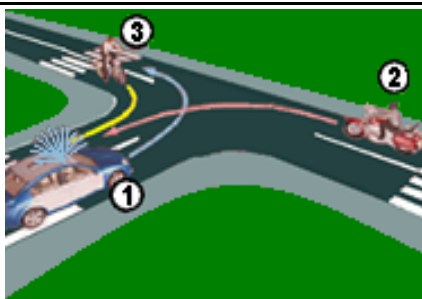
27 Koji je redoslijed prolaska vozila na raskrsnici u situaciji kao na slici?

- 1 1 - 2 - 3;
- 2 2 - 1 - 3;
- 3 3 - 1 - 2.



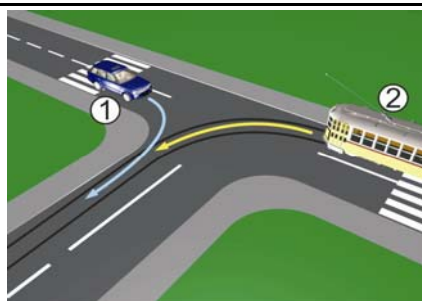
28 Koji je redoslijed prolaska vozila na raskrsnici u situaciji kao na slici?

- 1 3 - 2 - 1;
- 2 2 - 1 - 3;
- 3 1 - 3 - 2.



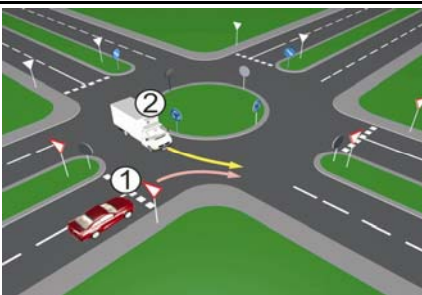
29 Kako u saobraćajnoj situaciji kao na slici mora postupiti vozač vozila broj 2?

- 1 propustiti vozilo broj 1;
- 2 proći prije vozila broj 1.



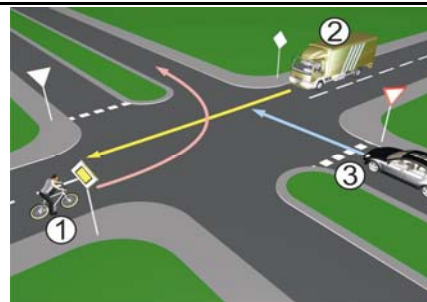
30 Kako u saobraćajnoj situaciji kao na slici mora postupiti vozač vozila broj 2?

- 1 proći prije vozila broj 1;
- 2 propustiti vozilo broj 1.



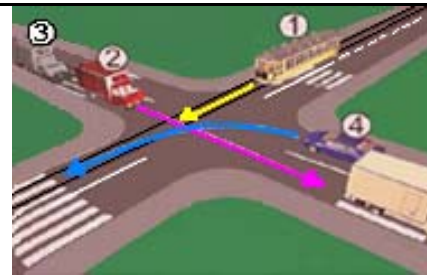
31 Koji je redoslijed prolaska vozila na raskrsnici u situaciji kao na slici?

- 1 2 - 1 - 3;
- 2 3 - 1 - 2;
- 3 3 - 2 - 1.



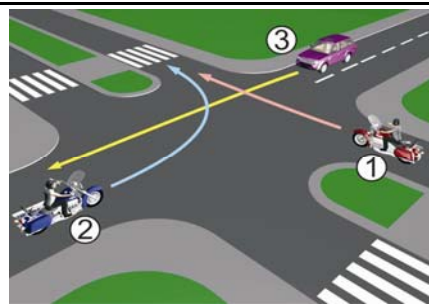
32 Koji je redoslijed prolaska vozila na raskrsnici u situaciji kao na slici?:

- 1 1 - 2 - 3 - 4;
- 2 4 - 1 - 2 - 3;
- 3 2 - 3 - 4 - 1.



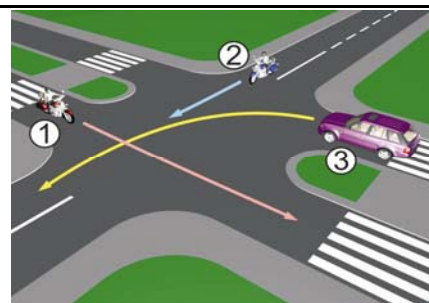
33 Koji je redoslijed prolaska vozila na raskrsnici u situaciji kao na slici?

- 1 3 - 1 - 2;
- 2 2 - 1 - 3;
- 3 1 - 2 - 3.



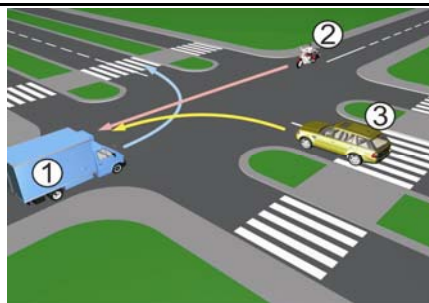
34 Koji je redoslijed prolaska vozila na raskrsnici u situaciji kao na slici?

- 1 3 - 2 - 1;
- 2 1 - 2 - 3;
- 3 2 - 1 - 3.



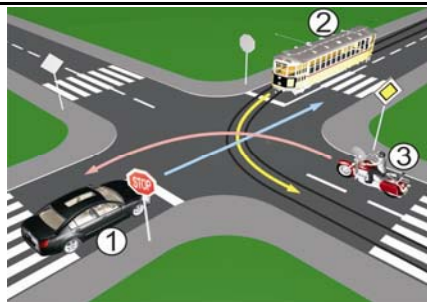
35 Koji je redoslijed prolaska vozila na raskrsnici u situaciji kao na slici?

- 1 1 - 3 - 2;
- 2 2 - 3 - 1;
- 3 3 - 2 - 1.



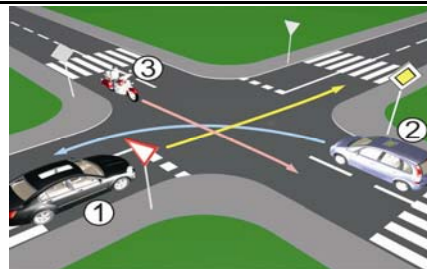
36 Koji je redoslijed prolaska vozila na raskrsnici u situaciji kao na slici?

- 1 2 - 3 - 1;
- 2 3 - 2 - 1;
- 3 3 - 1 - 2.



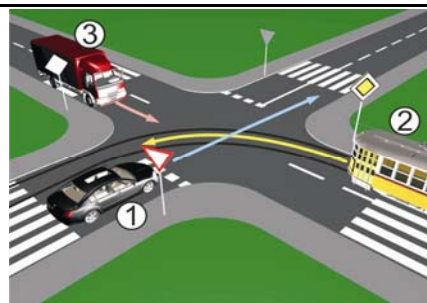
37 Koji je redoslijed prolaska vozila na raskrsnici u situaciji kao na slici?

- 1 3 - 2 - 1;
- 2 1 - 2 - 3;
- 3 2 - 1 - 3.



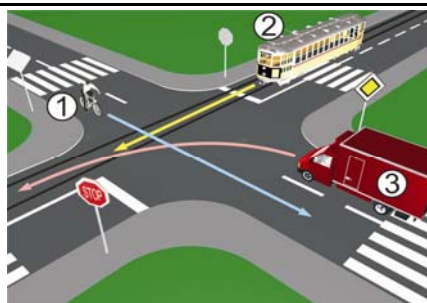
38 Koji je redoslijed prolaska vozila na raskrsnici u situaciji kao na slici?

- 1 3 - 2 - 1;
- 2 2 - 3 - 1;
- 3 1 - 2 - 3.



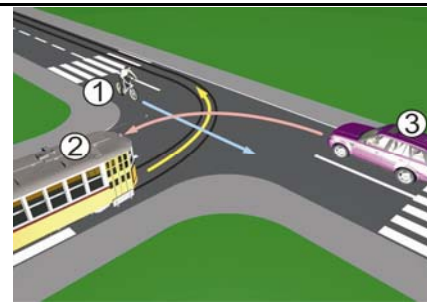
39 Koji je redoslijed prolaska vozila na raskrsnici u situaciji kao na slici?

- 1 2 - 3 - 1;
- 2 1 - 3 - 2;
- 3 1 - 2 - 3.



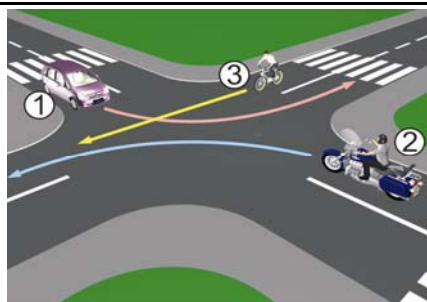
40 Koji je redoslijed prolaska vozila na raskrsnici u situaciji kao na slici?

- 1 3 - 2 - 1;
- 2 2 - 1 - 3;
- 3 1 - 2 - 3.



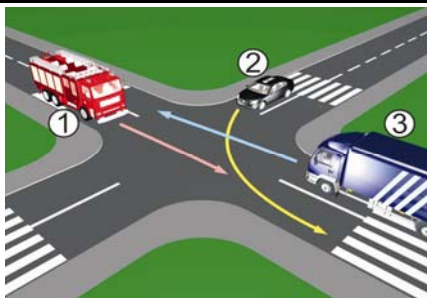
41 Koji je redoslijed prolaska vozila na raskrsnici u situaciji kao na slici?

- 1 2 - 3 - 1;
- 2 1 - 3 - 2;
- 3 2 - 1 - 3.



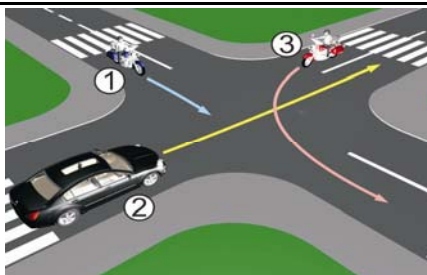
42 Koji je redoslijed prolaska vozila na raskrsnici u situaciji kao na slici?

- 1 3 - 2 - 1;
- 2 3 - 1 - 2;
- 3 1 - 2 - 3.



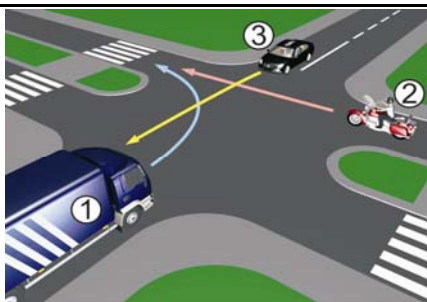
43 Koji je redoslijed prolaska vozila na raskrsnici u situaciji kao na slici?

- 1 1 - 2 - 3;
- 2 3 - 1 - 2;
- 3 2 - 1 - 3.



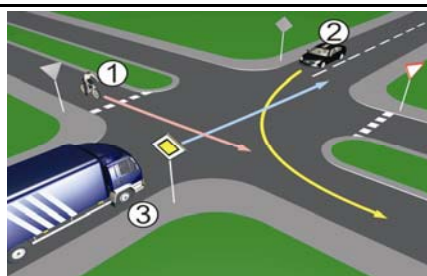
44 Koji je redoslijed prolaska vozila na raskrsnici u situaciji kao na slici?

- 1 3 - 2 - 1;
- 2 2 - 1 - 3;
- 3 1 - 2 - 3.



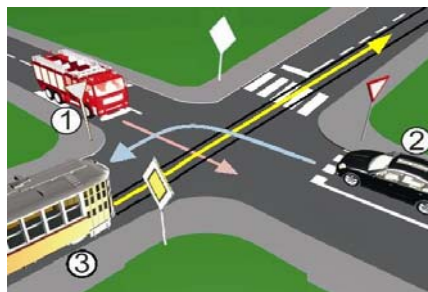
45 Koji je redoslijed prolaska vozila na raskrsnici u situaciji kao na slici?

- 1 3 - 2 - 1;
- 2 2 - 1 - 3;
- 3 1 - 3 - 2.



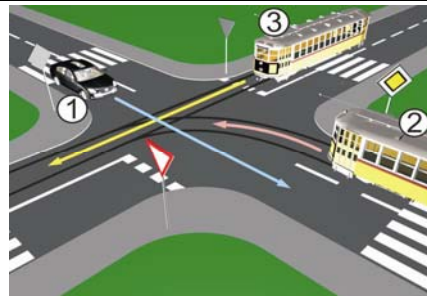
46 Koji je redoslijed prolaska vozila na raskrsnici u situaciji kao na slici?

- 1 3 - 1 - 2;
- 2 2 - 1 - 3;
- 3 1 - 3 - 2.



47 Koji je redoslijed prolaska vozila na raskrsnici u situaciji kao na slici?

- 1 2 - 1 - 3;
- 2 3 - 2 - 1;
- 3 1 - 3 - 2.



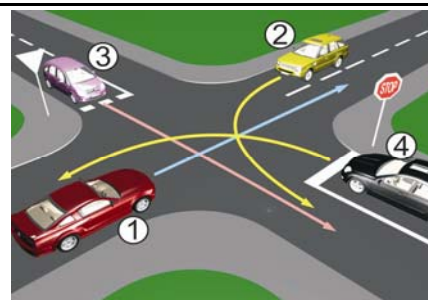
48 Koji je redoslijed prolaska vozila na raskrsnici u situaciji kao na slici?

- 1 1 - 2 - 3;
- 2 2 - 3 - 1;
- 3 3 - 2 - 1.



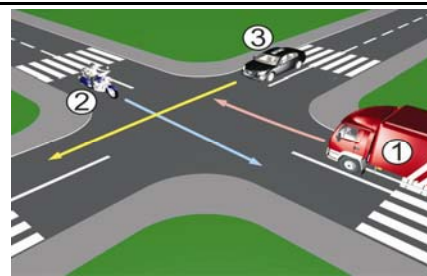
49 Koji je redoslijed prolaska vozila na raskrsnici u situaciji kao na slici?

- 1 2 - 1 - 3 - 4;
- 2 1 - 2 - 3 - 4;
- 3 1 - 2 - 4 - 3.



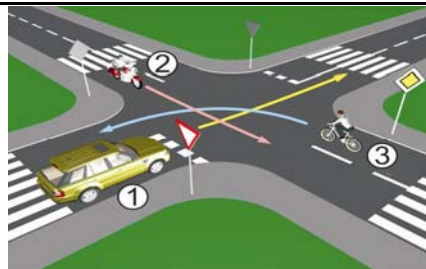
50 Koji je redoslijed prolaska vozila na raskrsnici u situaciji kao na slici?

- 1 1 - 3 - 2;
- 2 3 - 2 - 1;
- 3 2 - 3 - 1.



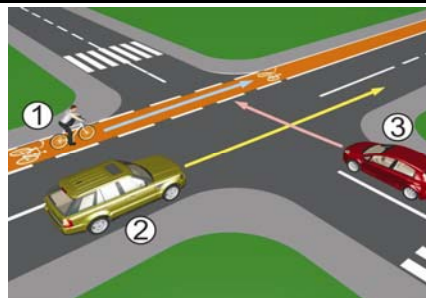
51 Koji je redoslijed prolaska vozila na raskrsnici u situaciji kao na slici?

- 1 2 - 3 - 1;
- 2 2 - 1 - 3;
- 3 3 - 1 - 2.



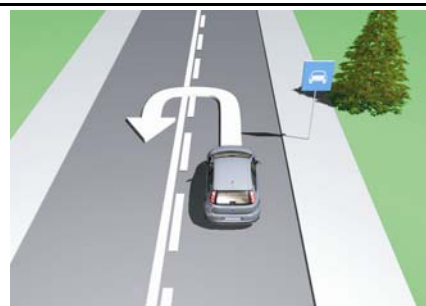
52 Koji je redoslijed prolaska učesnika u saobraćaju na raskrsnici u situaciji kao na slici?

- 1 1-3-2;
- 2 3, pa 2 i 1 istovremeno;
- 3 2 i 1 istovremeno, pa 3.



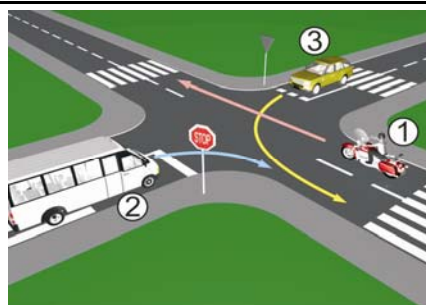
53 Da li je u saobraćajnoj situaciji kao na slici dozvoljeno izvršiti radnju polukružnog okretanja vozilom kojim upravljate?

- 1 da;
- 2 ne.



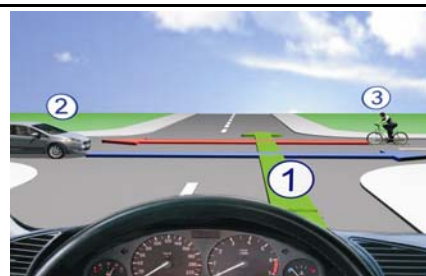
54 Koji je redoslijed prolaska vozila na raskrsnici u situaciji kao na slici?

- 1 1 - 3 - 2;
- 2 1 - 2 - 3;
- 3 3 - 1 - 2.



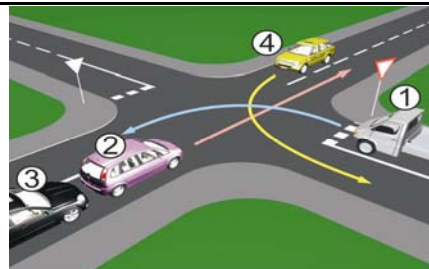
55 Koji je redoslijed prolaska vozila na raskrsnici u situaciji kao na slici?

- 1 1 - 3 - 2;
- 2 3 - 1 - 2;
- 3 2 - 3 - 1.



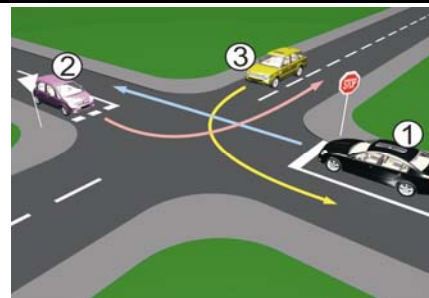
56 Koji je redosljed prolaska vozila na raskrsnici u situaciji kao na slici?

- 1 4 - 1 - 2 - 3;
- 2 2 - 3 - 4 - 1;
- 3 2 - 3 - 1 - 4.



57 Koji je redosljed prolaska vozila na raskrsnici u situaciji kao na slici?

- 1 3 - 2 - 1;
- 2 3 - 1 - 2;
- 3 2 - 3 - 1.



58 Kako ćete postupiti na raskrsnici na kojoj je saobraćaj regulisan svjetlosnom saobraćajnom signalizacijom kao na slici?

- 1 obavezno zaustaviti vozilo jer se uključujem sa sporednog puta;
- 2 obavezno zaustaviti vozilo zbog znaka „STOP“;
- 3 nastaviti kretanje vozilom.



59 Kako ćete postupiti na raskrsnici u saobraćajnoj situaciji kao na slici?

- 1 nastaviti kretanje vozilom jer nema niko sa desne strane;
- 2 proći drugi jer sam žutom vozilu sa desne strane;
- 3 zaustaviti se i propustiti oba vozila;



60 Kako ćete postupiti na raskrsnici u saobraćajnoj situaciji kao na slici? (više tačnih odgovora)

- 1 proći prvi kroz raskrsnicu;
- 2 propustiti crveno vozilo;
- 3 zaustaviti se i propustiti oba vozila;
- 4 proći kroz raskrsnicu prije žutog vozila.



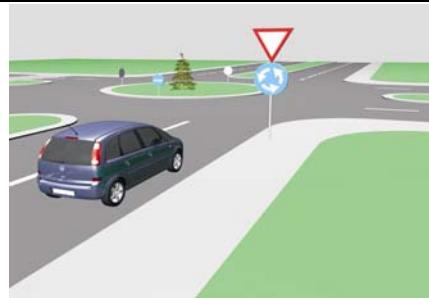
61 Kako ćete postupiti u saobraćajnoj situaciji kao na slici ako upravljate plavim automobilom?

- 1 proći prvi jer sam sa desne strane;
- 2 proći prvi jer skrećem udesno;
- 3 zaustaviti se i propustiti crveno vozilo.



62 Kako ćete postupiti u saobraćajnoj situaciji kao na slici ako imate namjeru proći raskrsnicu?

- 1 obavezno se zaustaviti, bez obzira ima li vozila sa lijeve strane u raskrsnici;
- 2 nastaviti kretanje bez zaustavljanja jer me vozači vozila u raskrsnici moraju propustiti;
- 3 zaustaviti se po potrebi, radi propuštanja vozila koja su već u raskrsnici, a potom proći kroz raskrsnicu.



63 Kako ćete postupiti u saobraćajnoj situaciji kao na slici prilikom dolaska na raskrsnicu?
(više tačnih odgovora)

- 1 nastaviti kretanje jer ne mijenjam smjer kretanja vozila;
- 2 propustiti motocikl;
- 3 proći prije vozila koje dolazi iz suprotnog smjera.



64 Kako trebate postupiti u saobraćajnoj situaciji kao na slici prilikom dolaska na raskrsnicu?

- 1 proći prvi kroz raskrsnicu;
- 2 proći drugi kroz raskrsnicu, nakon propuštanja bijelog vozila;
- 3 proći posljednji kroz raskrsnicu.



65 Kako trebate postupiti u saobraćajnoj situaciji kao na slici prilikom dolaska na raskrsnicu?

- 1 zaustaviti se i propustiti oba vozila;
- 2 proći prvi kroz raskrsnicu jer sam cvenom vozilu sa desne strane;
- 3 propustiti crveno vozilo, a zatim proći kroz raskrsnicu istovremeno sa autobusom.



66 Kako trebate postupiti u situaciji kao na slici?
(više tačnih odgovora)

- 1 obavezno se zaustaviti;
- 2 nastaviti kretanje vozilom ulijevo, nakon propuštanja vozila koja dolaze sa desne strane;
- 3 nakon što se na semaforu upali zeleno svjetlo, nastaviti kretanje vozilom ulijevo;
- 4 nakon što se na semaforu upali zeleno svjetlo, nastaviti kretanje udesno.



67 Kako ćete postupiti u situaciji kao na slici?
(više tačnih odgovora)

- 1 povećati pažnju zbog nailaska na ukrštanje odnosno spajanje puta sa prednošću prolaska sa sporednim putem;
- 2 obavezno nastaviti kretanje vozilom pravo;
- 3 skrenuti udesno na sporedni put ili nastaviti kretanje vozilom pravo.



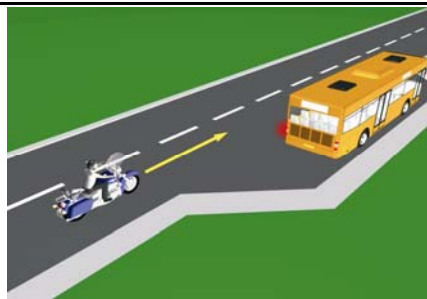
68 Kako ćete postupiti u situaciji kao na slici?

- 1 obratiti pažnju na moguću djecu na putu ili u blizini puta, a brzinu kretanja vozila prilagoditi trenutnim uslovima saobraćaja, s tim da brzina ne smije biti veća od brzine određene saobraćajnim znakom;
- 2 obratiti pažnju samo ako se djeca nalaze na putu, a brzinu prilagoditi trenutnim uslovima saobraćaja.



69 Kako treba postupiti vozač motocikla u saobraćajnoj situaciji kao na slici, ako je na vozilu javnog gradskog prevoza putnika uključen lijevi pokazivač smijera?

- 1 nije dužan omogućiti autobusu uključivanje u saobraćaj;
- 2 dužan je omogućiti autobusu uključivanje u saobraćaj;
- 3 nije dužan omogućiti autobusu uključivanje u saobraćaj jer se autobus nalazi na sporednom putu.



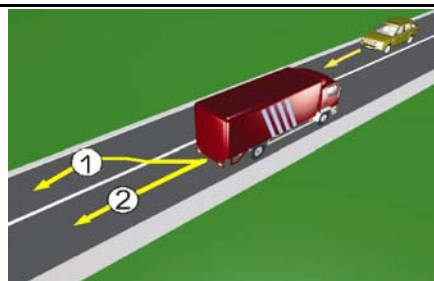
70 U saobraćajnoj situaciji kao na slici vozač putničkog automobila:

- 1 ne smije da izvrši radnju kretanja vozilom unazad, jer čini prekršaj;
- 2 smije izvršiti radnju kretanja vozilom unazad, jer se nalazi neposredno uz mjesto za zaustavljanje vozila.



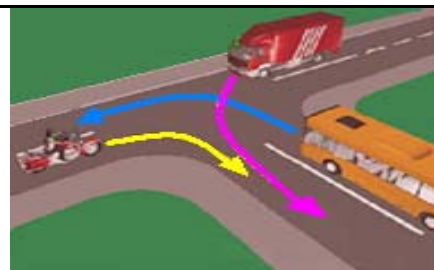
71 U saobraćajnoj situaciji kao na slici, vozač kamiona prilikom vršenja radnje kretanja vozilom unazad mora da se kreće:

- 1 linijama broj 1 i broj 2;
- 2 linijom broj 2;
- 3 linijom broj 1.



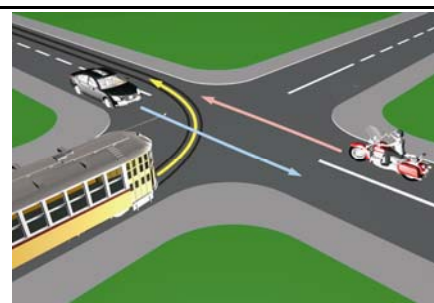
72 Koji je redoslijed prolaska vozila na raskrsnici u situaciji kao na slici?

- 1 autobus, kamion, motocikl;
- 2 motocikl, autobus, kamion;
- 3 motocikl i kamion istovremeno, pa autobus;
- 4 motocikl, kamion, autobus.



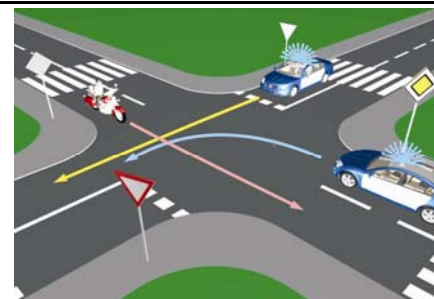
73 Koji je redoslijed prolaska vozila na raskrsnici u situaciji kao na slici?

- 1 tramvaj, motocikl, putnički automobil;
- 2 tramvaj, a zatim istovremeno putnički automobil i motocikl;
- 3 motocikl, putnički automobil, tramvaj;
- 4 motocikl, tramvaj, putnički automobil.




74 Koje vozilo će u saobraćajnoj situaciji kao na slici posljednje proći kroz raskrnicu?

- 1 motocikl;
- 2 policijsko vozilo koje drugom policijskom vozilu dolazi sa desne strane;
- 3 policijsko vozilo koje se nalazi na putu sa prvenstvom prolaza.



75 Kako ćete postupiti u situaciji kao na slici ako kretanje vozilom nastavljate pravo, na raskrsnici puteva iste važnosti na kojoj uređaji za davanje svjetlosnih saobraćajnih znakova nisu u funkciji? (više tačnih odgovora)

- 1 pažljivo proći vozilom kroz raskrnicu;
- 2 propustiti vozila koja dolaze i sa lijeve i sa desne strane;
- 3 propustiti vozila koja dolaze sa desne strane;
- 4 propustiti vozila iz suprotnog smjera koja namjeravaju skrenuti ulijevo.



76 Kako treba postupiti u situaciji kao na slici?

- 1 obavezno se zaustaviti pa nastaviti kretanje vozilom ulijevo ili udesno;
- 2 nastaviti kretanje vozilom nakon propuštanja vozila koja dolaze samo sa desne strane;
- 3 nastaviti kretanje vozilom ulijevo ili udesno nakon propuštanja svih vozila koja se kreću putem na koji se uključujem



77 Kako postupiti u situaciji kao na slici ako vozilom prolazite pored dva postavljena saobraćajna znaka?

- 1 prilagoditi brzinu kretanja vozila tako da ona ne prelazi 50 km/h;
- 2 obratiti pažnju na pješake, jer saobraćajni znak ukazuje na blizinu pješačkog prelaza;
- 3 nastaviti kretanje vozilom uz prethodno propuštanje pješaka.



78 Kojoj vrsti saobraćajnih znakova pripada postavljeni saobraćajni znak na slici?

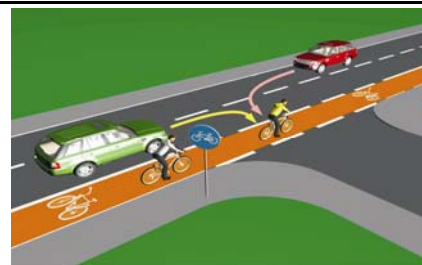
- 1 znakovima opasnosti;
- 2 znakovima obavještenja;
- 3 znakovima izričitih naredbi.



AUTO ŠKOLA *BALKAN* BANJA LUKA

79 U situaciji kao na slici učesnici u saobraćaju proći će kroz raskrnicu sljedećim redoslijedom:

- 1 oba bicikla, crveni automobil, zeleni automobil;
- 2 zeleni automobil, crveni automobil, pa bicikli;
- 3 oba bicikla, zeleni automobil, crveni automobil.



80 U saobraćajnoj situaciji kao na slici vozač vozila koje se nalazi u srednjoj saobraćajnoj traci: (više tačnih odgovora)

- 1 mora nastaviti kretanje vozilom pravo, jer nije pravovremeno izvršio radnju prestrojavanja;
- 2 ne smije izvršiti radnju skretanja ulijevo, jer čini prekršaj;
- 3 sačekaće sva vozila da skrenu ulijevo, a potom izvršiti radnju skretanja ulijevo.



AUTO ŠKOLA *BALKAN* BANJA LUKA

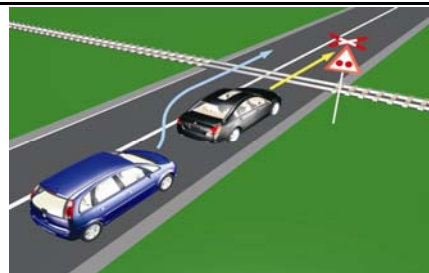
81 Kako treba postupiti vozač putničkog auta u situaciji kao na slici ako se vozač autobusa uključuje u saobraćaj sa stajališta?

- 1** smanjuje brzinu kretanja i omogućuje uključivanje autobusa u saobraćaj;
- 2** zvučnim znakom upozorava vozača autobusa da ga propusti jer ima prvenstvo prolaza;
- 3** prolazi pored autobusa jer ima prednost.



82 U saobraćajnoj situaciji kao na slici, plavi putnički automobil:

- 1** ne čini prekršaj jer je prelaz preko pruge regulisan svjetlosnim saobraćajnim znakovima;
- 2** čini prekršaj.



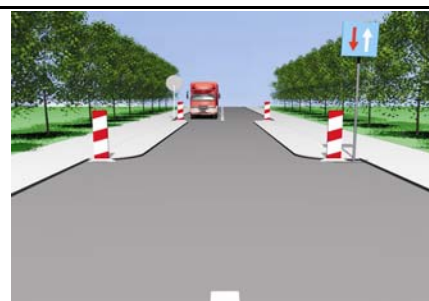
83 Kako ćete postupiti u saobraćajnoj situaciji kao na slici ukoliko automobilom skrećete udesno?

- 1** propustiću biciklistu, a zatim vršim radnju skretanja udesno;
- 2** vozim istovremeno sa biciklistom.



84 Kako postupiti u saobraćajnoj situaciji kao na slici? (više tačnih odgovora)

- 1** povećati brzinu kretanja vozila;
- 2** obratiti pažnju na postupke vozača vozila iz suprotnog smjera;
- 3** povećati pažnju i prije vozila iz suprotnog smjera proći dionicu na kojoj je suženje puta.



85 Kako postupiti u saobraćajnoj situaciji kao na slici? (više tačnih odgovora)

- 1** propustiti crveni automobil;
- 2** proći kroz raskrsnicu prije crnog automobila;
- 3** proći kroz raskrsnicu prije crvenog automobila.



86 Kako postupiti u saobraćajnoj situaciji kao na slici ? (više tačnih odgovora)

- 1 propustiti autobus;
- 2 propustiti motocikl;
- 3 proći kroz raskrslnicu prije autobusa.



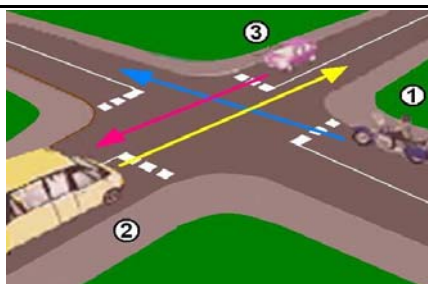
87 Kako ćete postupiti u situaciji kao na slici? (više tačnih odgovora)

- 1 proći prvi kroz raskrslnicu;
- 2 proći zadnji kroz raskrslnicu;
- 3 proći prije crvenog vozila raskrslnicu;
- 4 propustiti vozilo koje dolazi iz suprotnog smjera.




88 Koji je redosljed prolaska vozila na raskrslnici u situaciji kao na slici?

- 1 1 - 2 - 3;
- 2 2 - 3 - 1;
- 3 3 - 1 - 2.



89 Kako ćete postupiti u situaciji kao na slici?

- 1 proći prvi kroz raskrslnicu jer imate prednost;
- 2 propustiti oba vozila i zadnji proći kroz raskrslnicu;
- 3 propustiti vozilo hitne pomoći koje daje svjetlosne znakove, a zatim proći kroz raskrslnicu.



90 Kako treba postupiti u situaciji kao na slici? (više tačnih odgovora)

- 1 proći prvi kroz raskrslnicu;
- 2 propustiti autobus;
- 3 proći kroz raskrslnicu prije vozila sa lijeve strane;
- 4 proći kroz raskrslnicu prije autobusa, jer vrši radnju skretanja ulijevo.



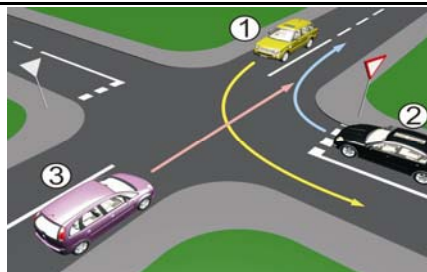
91 Kako ćete postupiti u saobraćajnoj situaciji kao na slici ako na raskrsnici skrećete ulijevo dok je na semaforu upaljeno zeleno svjetlo?

- 1 zaustaviti se prije raskrsnice;
- 2 propustiti tramvaj koji dolazi iz suprotnog smjera.



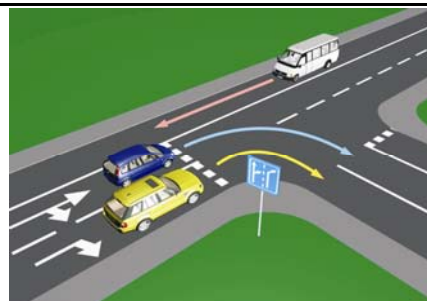
92 Koji je redosljed prolaska vozila na raskrsnici u situaciji kao na slici?

- 1 1 - 2 - 3;
- 2 3 - 1 - 2;
- 3 2 - 1 - 3.



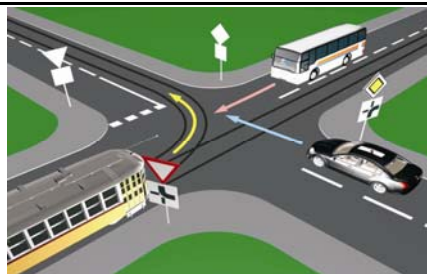
93 U saobraćajnoj situaciji kao na slici pravilno skretanje udesno vrši:

- 1 samo žuto vozilo;
- 2 samo plavo vozilo;
- 3 nijedno vozilo;
- 4 oba vozila.



94 Koji je redosljed prolaska vozila na raskrsnici u situaciji kao na slici?

- 1 tramvaj, autobus, putnički automobil;
- 2 autobus, tramvaj, putnički automobil;
- 3 autobus, putnički automobil, tramvaj.



95 Kako ćete postupiti ako se za vrijeme upravljanja vozilom nađete u saobraćajnoj situaciji kao na slici?(više tačnih odgovora)

- 1 zaustaviti vozilo;
- 2 zvučnim znakom upozoriti pješake na opasnost;
- 3 nastaviti kretanje jer nema obilježenog pješačkog prelaza.



96 Kako ćete postupiti u saobraćajnoj situaciji kao na slici ako se vozač autobusa uključuje sa autobusnog stajališta u saobraćaj.
(više tačnih odgovora)

- 1 smanjiti brzinu kretanja vozila;
- 2 povećati brzinu kretanja vozila i proći prije autobusa;
- 3 po potrebi zaustaviti vozilo i omogućiti vozaču autobusa da se bezbjedno uključi u saobraćaj;



97 Kako ćete postupiti, ako je autobus, označen kao na slici, zaustavljen na kolovozu zbog ulaska i izlaska djece?(više tačnih odgovora)

- 1 ako se krećem vozilom iza autobusa, zaustaviti se;
- 2 ako se krećem vozilom iza autobusa, nastaviti kretanje vozilom;
- 3 ako se krećem vozilom u susret autobusu, nastaviti kretanje vozilom;
- 4 ako se krećem vozilom u susret autobusu, zaustaviti se.



98 Kako trebate postupiti u saobraćajnoj situaciji kao na slici prilikom približavanja raskrsnici?
(više tačnih odgovora)

- 1 propustiti vozilo koje dolazi iz suprotnog smjera kretanja, i ima namjeru izvršiti radnju skretanja udesno;
- 2 proći prvi kroz raskrsnicu;
- 3 proći drugi kroz raskrsnicu;
- 4 propustiti vozilo koje dolazi sa desne strane.




99 Kako trebate postupiti u saobraćajnoj situaciji kao na slici?(više tačnih odgovora)

- 1 proći prvi kroz raskrsnicu jer nemate nikoga sa desne strane;
- 2 propustiti vozilo koje dolazi sa lijeve strane;
- 3 propustiti vozilo koje dolazi iz suprotnog smjera kretanja;
- 4 proći drugi kroz raskrsnicu.



100 Kako trebate postupiti u saobraćajnoj situaciji kao na slici?

- 1 propustiti crveno vozilo;
- 2 proći kroz raskrsnicu prije crvenog vozila;
- 3 proći istovremeno sa crvenim vozilom kroz raskrsnicu.




101 Kako trebate postupiti u saobraćajnoj situaciji kao na slici?(više tačnih odgovora)

- 1 povećati brzinu kretanja vozila;
- 2 obratiti pažnju na postupke vozača vozila iz suprotnog smjera;
- 3 propustiti vozilo iz suprotnog smjera, a zatim proći dionicu na kojoj je suženje puta.



102 Kako trebate postupiti u saobraćajnoj situaciji kao na slici?

- 1 proći prvi kroz raskrnicu jer nastavljate kretanje vozilom pravo;
- 2 propustiti oba vozila;
- 3 proći drugi kroz raskrnicu;
- 4 propustiti samo crveni automobil.



103 Kako ćete postupiti ako se krećete putem na kome se izvode radovi u situaciji kao na slici?

- 1 zaustaviti se jer se izvode radovi na saobraćajnoj traci kojom se krećem vozilom;
- 2 nastaviti kretanje vozilom jer je na semaforu upaljeno zeleno svjetlo.



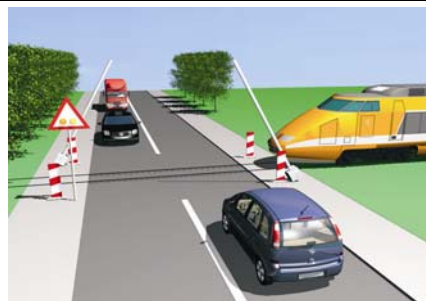
104 Kako ćete postupiti u saobraćajnoj situaciji kao na slici ukoliko upravljate crnim automobilom?

- 1 obavezno se zaustaviti;
- 2 nastaviti kretanje vozilom uz povećani oprez;
- 3 obavezno izvršiti radnju skretanja udesno.



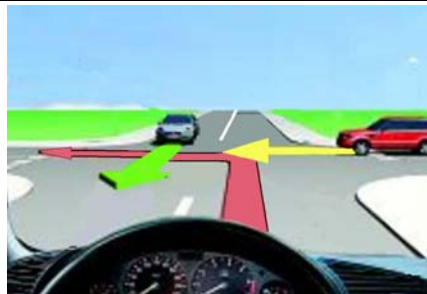
105 Kako ćete postupiti u saobraćajnoj situaciji kao na slici na prelazu puta preko željezničke pruge u istom nivou kada se crvena svjetla počinju naizmjenično da pale?

- 1 nastaviti kretanje vozilom dok se polubranik još nije spustio;
- 2 zaustaviti vozilo ispred pružnog prelaza i sačekati prolazak voza.



106 Kako ćete postupiti u saobraćajnoj situaciji kao na slici?

- 1 propustiti oba vozila;
- 2 propustiti samo crveno vozilo;
- 3 proći prvi kroz raskrnicu.



107 Kako ćete postupiti u saobraćajnoj situaciji kao na slici? *(više tačnih odgovora)*

- 1 propustiti pješake koji prelaze preko pješačkog prelaza;
- 2 proći prije pješaka;
- 3 propustiti tramvaj koji dolazi iz suprotnog smjera.



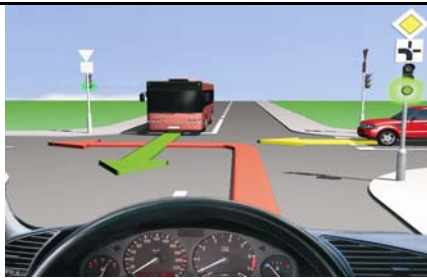
108 Kako ćete postupiti na raskrsnici u saobraćajnoj situaciji kao na slici?

- 1 proći prvi kroz raskrnicu;
- 2 propustiti oba vozila;
- 3 propustiti samo crveno vozilo.



109 Kako ćete postupiti na raskrsnici u saobraćajnoj situaciji kao na slici?

- 1 propustiti autobus;
- 2 proći kroz raskrnicu prije autobusa.



110 Kako ćete postupiti u saobraćajnoj situaciji kao na slici ako je na semaforu upaljeno crveno svjetlo i dopunska strelica za skretanje udesno? *(više tačnih odgovora)*

- 1 propustiti crveno vozilo koje dolazi sa lijeve strane;
- 2 proći kroz raskrnicu prije crvenog vozila;
- 3 izvršiću radnju skretanja udesno nakon crvenog vozila.





BANJA LUKA, MAJ 2012.GODINE